

國立勤益科技大學九十七學年度研究所碩士班招生筆試試題卷

所別：企業管理研究所

組別：乙組

科目：統計學

准考證號碼：□□□□□□□□ (考生自填)

考生注意事項：

一、考試時間 100 分鐘。

二、

三、

試題一：〈20 分〉

試回答下列變異數相關問題

(1). 何謂變異數分析？進行變異數分析法的原因為何？(8%)

(2). 請解釋  $Y_{ij} - \bar{Y} = (\bar{Y}_i - \bar{Y}) + (Y_{ij} - \bar{Y}_i)$  的含意 (6%)

(3). 為何變異數分析的檢定是採右尾檢定？(6%)

試題二：〈20 分〉

若要分析蘋果的需求與其價格的關係時，

(1). 請問如何利用迴歸分析來分析之？(6%)

(2). 若以相關分析來分析，則有何異同？(8%)

(3). 若樣本判定係數為 0 則其意義為何？(6%)

試題三：〈20 分〉

一大型消費用品公司正推出香皂的電視廣告並進行一項調查，調查結果得到如下資料。

$B$  = 消費者購買此商品

$S$  = 消費者看過此廣告

$B \cap S$  = 消費者購買此商品且看過此商品的電視廣告

假設  $P(B) = 0.20$ ,  $P(S) = 0.40$ ,  $P(B \cap S) = 0.12$ , 則：

- 已知消費者看過此廣告，請問其購買此商品的機率為何？廣告是否增加銷售的機率？作為一個決策者你認為是否應該繼續打廣告(假設廣告費相當合理)？(6%)
- 假定不購買該公司產品的消費者都購買了競爭者的產品，你估計該公司此項產品的市場佔有率是多少？你認為廣告是否會增加市場佔有率？為什麼？(6%)
- 該公司也推出另一廣告，其機率值為  $P(S)=0.30$  及  $P(B \cap S)=0.10$ 。請問此廣告的  $P(B | S)$  為多少？哪一個廣告的效果比較好？(8%)

#### 試題四：〈20分〉

美國劇場與製片人協會利用觀眾追蹤調查，以瞭解百老匯劇院即時的觀眾資訊(Playbill, Winter 1997)。該協會每週在百老匯劇院隨機抽取座位，並給抽中的觀眾一份一頁的問卷。這份問卷大約需 5 分鐘即可完成，使觀眾能表達他們對劇場的觀點。

- 若邊際誤差為 0.04，則應抽取多少樣本數？利用 95% 的信賴水準與計畫值  $p=0.5$ 。(8%)
- 假設以(a)所算出的樣本大小進行為期一週的抽樣計畫，在所有抽出的樣本中，有 445 名觀眾非居住於紐約市。試問非居住於紐約市的百老匯觀眾比例的估計值為多少？(4%)
- 利用(b)的結果，在 95% 的信賴水準下，進行非居住於紐約市的觀眾比例之間區估計。(8%)

#### 試題五：〈20分〉

從三個母體中各抽取 4 個觀察值，所得資料列於下表。令顯著水準  $\alpha = 0.025$ 。

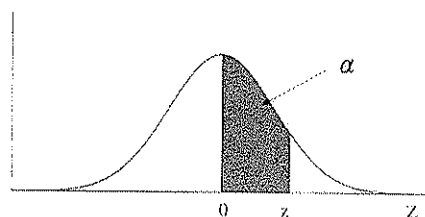
	樣本 1	樣本 2	樣本 3
	63	82	69
	47	72	54
	54	88	61
	40	66	48
$\bar{x}_j$	51	77	58
$s_j^2$	96.67	97.34	81.99

- 利用變異數分析，檢定三個母體平均數間是否存在顯著差異。(10%)
- 利用費雪 LSD 程序，以瞭解哪些母體間存在差異。(10%)

附表：

表 A 標準常態機率分配值表

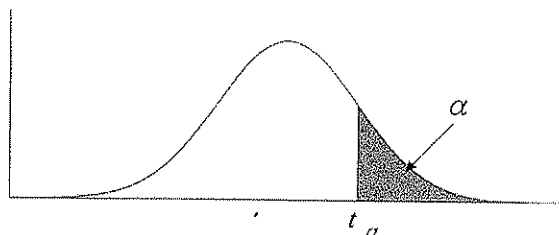
$$P(0 < Z < z) = \alpha$$



<i>z</i>	.00	.01	.02	.03	.04	.05	.06	.07	.08	.09
0.0	0.0000	0.0040	0.0080	0.0120	0.0160	0.0199	0.0239	0.0279	0.0319	0.0359
0.1	0.0398	0.0438	0.0478	0.0517	0.0557	0.0596	0.0636	0.0675	0.0714	0.0753
0.2	0.0793	0.0832	0.0871	0.0910	0.0948	0.0987	0.1026	0.1064	0.1103	0.1141
0.3	0.1179	0.1217	0.1255	0.1293	0.1331	0.1368	0.1406	0.1443	0.1480	0.1517
0.4	0.1554	0.1591	0.1628	0.1664	0.1700	0.1736	0.1772	0.1808	0.1844	0.1879
0.5	0.1915	0.1950	0.1985	0.2019	0.2054	0.2088	0.2123	0.2157	0.2190	0.2224
0.6	0.2257	0.2291	0.2324	0.2357	0.2389	0.2422	0.2454	0.2486	0.2517	0.2549
0.7	0.2580	0.2611	0.2642	0.2673	0.2704	0.2734	0.2764	0.2794	0.2823	0.2852
0.8	0.2881	0.2910	0.2939	0.2967	0.2995	0.3023	0.3051	0.3078	0.3106	0.3133
0.9	0.3159	0.3186	0.3212	0.3238	0.3264	0.3289	0.3315	0.3340	0.3365	0.3389
1.0	0.3413	0.3438	0.3461	0.3485	0.3508	0.3531	0.3554	0.3577	0.3599	0.3621
1.1	0.3643	0.3665	0.3686	0.3708	0.3729	0.3749	0.3770	0.3790	0.3810	0.3830
1.2	0.3849	0.3869	0.3888	0.3907	0.3925	0.3944	0.3962	0.3980	0.3997	0.4015
1.3	0.4032	0.4049	0.4066	0.4082	0.4099	0.4115	0.4131	0.4147	0.4162	0.4177
1.4	0.4192	0.4207	0.4222	0.4236	0.4251	0.4265	0.4279	0.4292	0.4306	0.4319
1.5	0.4332	0.4345	0.4357	0.4370	0.4382	0.4394	0.4406	0.4418	0.4429	0.4441
1.6	0.4452	0.4463	0.4474	0.4484	0.4495	0.4505	0.4515	0.4525	0.4535	0.4545
1.7	0.4554	0.4564	0.4573	0.4582	0.4591	0.4599	0.4608	0.4616	0.4625	0.4633
1.8	0.4641	0.4649	0.4656	0.4664	0.4671	0.4678	0.4686	0.4693	0.4699	0.4706
1.9	0.4713	0.4719	0.4726	0.4732	0.4738	0.4744	0.4750	0.4756	0.4761	0.4767
2.0	0.4772	0.4778	0.4783	0.4788	0.4793	0.4798	0.4803	0.4808	0.4812	0.4817
2.1	0.4821	0.4826	0.4830	0.4834	0.4838	0.4842	0.4846	0.4850	0.4854	0.4857
2.2	0.4861	0.4864	0.4868	0.4871	0.4875	0.4878	0.4881	0.4884	0.4887	0.4890
2.3	0.4893	0.4896	0.4898	0.4901	0.4904	0.4906	0.4909	0.4911	0.4913	0.4916
2.4	0.4918	0.4920	0.4922	0.4925	0.4927	0.4929	0.4931	0.4932	0.4934	0.4936
2.5	0.4938	0.4940	0.4941	0.4943	0.4945	0.4946	0.4948	0.4949	0.4951	0.4952
2.6	0.4953	0.4955	0.4956	0.4957	0.4959	0.4960	0.4961	0.4962	0.4963	0.4964
2.7	0.4965	0.4966	0.4967	0.4968	0.4969	0.4970	0.4971	0.4972	0.4973	0.4974
2.8	0.4974	0.4975	0.4976	0.4977	0.4977	0.4978	0.4979	0.4979	0.4980	0.4981
2.9	0.4981	0.4982	0.4982	0.4983	0.4984	0.4984	0.4985	0.4985	0.4986	0.4986
3.0	0.4987	0.4987	0.4987	0.4988	0.4988	0.4989	0.4989	0.4989	0.4990	0.4990

表B t分配臨界值表

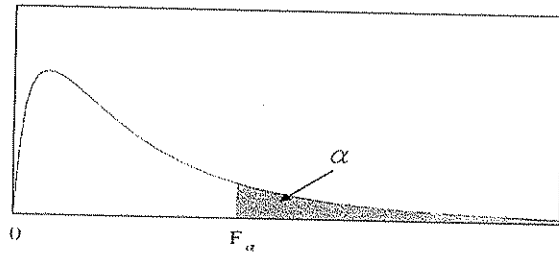
$$P(t > t_{\alpha}) = \alpha$$



<i>d.f.</i>	<i>t</i> <sub>.100</sub>	<i>t</i> <sub>.050</sub>	<i>t</i> <sub>.025</sub>	<i>t</i> <sub>.010</sub>	<i>t</i> <sub>.005</sub>	<i>d.f.</i>
1	3.078	6.314	12.706	31.821	63.656	1
2	1.886	2.920	4.303	6.965	9.925	2
3	1.638	2.353	3.182	4.541	5.841	3
4	1.533	2.132	2.776	3.747	4.604	4
5	1.476	2.015	2.571	3.365	4.032	5
6	1.440	1.943	2.447	3.143	3.707	6
7	1.415	1.895	2.365	2.998	3.499	7
8	1.397	1.860	2.306	2.896	3.355	8
9	1.383	1.833	2.262	2.821	3.250	9
10	1.372	1.812	2.228	2.764	3.169	10
11	1.363	1.796	2.201	2.718	3.106	11
12	1.356	1.782	2.179	2.681	3.055	12
13	1.350	1.771	2.160	2.650	3.012	13
14	1.345	1.761	2.145	2.624	2.977	14
15	1.341	1.753	2.131	2.602	2.947	15
16	1.337	1.746	2.120	2.583	2.921	16
17	1.333	1.740	2.110	2.567	2.898	17
18	1.330	1.734	2.101	2.552	2.878	18
19	1.328	1.729	2.093	2.539	2.861	19
20	1.325	1.725	2.086	2.528	2.845	20
21	1.323	1.721	2.080	2.518	2.831	21
22	1.321	1.717	2.074	2.508	2.819	22
23	1.319	1.714	2.069	2.500	2.807	23
24	1.318	1.711	2.064	2.492	2.797	24
25	1.316	1.708	2.060	2.485	2.787	25
26	1.315	1.706	2.056	2.479	2.779	26
27	1.314	1.703	2.052	2.473	2.771	27
28	1.313	1.701	2.048	2.467	2.763	28
29	1.311	1.699	2.045	2.462	2.756	29
∞	1.282	1.645	1.960	2.326	2.576	∞

表 C F 分配臨界值表

$$P(F > F_\alpha) = \alpha$$



$\nu_2(d.f.)$	$\nu_1(d.f.)$								
	1	2	3	4	5	6	7	8	9
1	647.79	799.48	864.15	899.60	921.83	937.11	948.20	956.64	963.28
2	38.51	39.00	39.17	39.25	39.30	39.33	39.36	39.37	39.39
3	17.44	16.04	15.44	15.10	14.88	14.73	14.62	14.54	14.47
4	12.22	10.65	9.98	9.60	9.36	9.20	9.07	8.98	8.90
5	10.01	8.43	7.76	7.39	7.15	6.98	6.85	6.76	6.68
6	8.81	7.26	6.60	6.23	5.99	5.82	5.70	5.60	5.52
7	8.07	6.54	5.89	5.52	5.29	5.12	4.99	4.90	4.82
8	7.57	6.06	5.42	5.05	4.82	4.65	4.53	4.43	4.36
9	7.21	5.71	5.08	4.72	4.48	4.32	4.20	4.10	4.03
10	6.94	5.46	4.83	4.47	4.24	4.07	3.95	3.85	3.78
11	6.72	5.26	4.63	4.28	4.04	3.88	3.76	3.66	3.59
12	6.55	5.10	4.47	4.12	3.89	3.73	3.61	3.51	3.44
13	6.41	4.97	4.35	4.00	3.77	3.60	3.48	3.39	3.31
14	6.30	4.86	4.24	3.89	3.66	3.50	3.38	3.29	3.21
15	6.20	4.77	4.15	3.80	3.58	3.41	3.29	3.20	3.12
16	6.12	4.69	4.08	3.73	3.50	3.34	3.22	3.12	3.05
17	6.04	4.62	4.01	3.66	3.44	3.28	3.16	3.06	2.98
18	5.98	4.56	3.95	3.61	3.38	3.22	3.10	3.01	2.93
19	5.92	4.51	3.90	3.56	3.33	3.17	3.05	2.96	2.88
20	5.87	4.46	3.86	3.51	3.29	3.13	3.01	2.91	2.84
21	5.83	4.42	3.82	3.48	3.25	3.09	2.97	2.87	2.80
22	5.79	4.38	3.78	3.44	3.22	3.05	2.93	2.84	2.76
23	5.75	4.35	3.75	3.41	3.18	3.02	2.90	2.81	2.73
24	5.72	4.32	3.72	3.38	3.15	2.99	2.87	2.78	2.70
25	5.69	4.29	3.69	3.35	3.13	2.97	2.85	2.75	2.68
26	5.66	4.27	3.67	3.33	3.10	2.94	2.82	2.73	2.65
27	5.63	4.24	3.65	3.31	3.08	2.92	2.80	2.71	2.63
28	5.61	4.22	3.63	3.29	3.06	2.90	2.78	2.69	2.61
29	5.59	4.20	3.61	3.27	3.04	2.88	2.76	2.67	2.59
30	5.57	4.18	3.59	3.25	3.03	2.87	2.75	2.65	2.57
40	5.42	4.05	3.46	3.13	2.90	2.74	2.62	2.53	2.45
60	5.29	3.93	3.34	3.01	2.79	2.63	2.51	2.41	2.33
120	5.15	3.80	3.23	2.89	2.67	2.52	2.39	2.30	2.22
$\infty$	5.02	3.69	3.12	2.79	2.57	2.41	2.29	2.19	2.11